



# INSTITUCIÓN EDUCATIVA SAN JOSÉ DE VENECIA

NIT 811019578-0  
DANE 105861000199  
Código ICFES 002865

**DOCENTE:** Héctor Iván Ballesteros Cano

**AREA:** Matemáticas

**HORAS:** 1ª y 2ª Martes

**PERIODO:** 2º

**MONITOR:** Sara Betancur

**GRADO:** 11º.1 y 2

**TEMA:** Volumen de Poliedros

**LOGRO:** -Afianza las nociones básicas de geometría (Poliedros) adquiridas en cursos anteriores creando espacios de aplicación y confrontación de procesos y resultados.

**ACTIVIDAD:** Identificar los diferentes Poliedros por sus características y aplicar el cálculo de los volúmenes en problemas de la cotidianidad.

## VOLUMEN

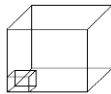
Volumen: Extensión del espacio ocupado por un sólido o limitado por una superficie cerrada. Algunas ecuaciones útiles son:  $B$  área de la base,  $h$  altura,  $R$  radio y  $D$  Diámetro.

Prisma:  $V = B \cdot h$  Pirámide:  $V = \frac{1}{3} B \cdot h$  Cilindro:  $V = \pi \cdot R^2 \cdot h$  Cono:  $\frac{1}{3} \pi \cdot R^2 \cdot h$  Esfera:  $V = \frac{4}{3} \pi \cdot R^3 = \frac{1}{6} \cdot D^3$

## TALLER


1. Si la arista del cubo mayor es seis y la del menor es dos, el cubo menor está contenido en el mayor:

- A. 6 veces
- B. 9 veces
- C. 12 veces
- D. 27 veces



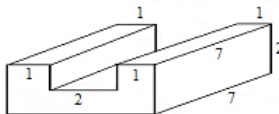
2. Cuántos cubitos pequeños de arista 2 cm caben en la caja grande de 12 cm x 4 cm x 4 cm?

- A. 24
- B. 12
- C. 6
- D. 3




3. Hallar el volumen de la figura.

- A. 45
- B. 36
- C. 28
- D. 35



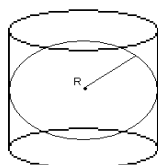
4. Las esquinas sombreadas de la figura se cortan y los lados se doblan para formar una caja. Hallar su volumen.

- A.  $96 \text{ cm}^3$
- B.  $28 \text{ cm}^3$
- C.  $66 \text{ cm}^3$
- D.  $32 \text{ cm}^3$



5. La figura muestra un cilindro circunscrito a una esfera si el radio de la esfera es  $R$ , entonces el volumen del cilindro es:

- A.  $\pi R^3$
- B.  $3\pi R^3$
- C.  $2\pi R^3$
- D.  $4\pi R^3$



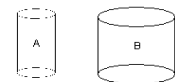
6. La construcción maciza está formada por bloques de  $30 \text{ cm}^3$  cada uno. ¿Cuál es el volumen de dicha construcción?.

- A.  $320 \text{ cm}^3$
- B.  $480 \text{ cm}^3$
- C.  $680 \text{ cm}^3$
- D.  $750 \text{ cm}^3$



7. La figura muestra 2 cilindros de 3 cm de altura; el radio de la base del cilindro  $A$  es  $\frac{2}{3}$  del radio de la base del cilindro  $B$ . Si el cilindro  $A$  tiene un volumen de  $24 \text{ cm}^3$ , el volumen del cilindro  $B$  es:

- A.  $96/9 \text{ cm}^3$
- B.  $54 \text{ cm}^3$
- C.  $16 \text{ cm}^3$
- D.  $64/9 \text{ cm}^3$



8. Un cubo  $A$  tiene 4 m de lado; el cubo  $B$  tiene de lado 2 m. Qué proporción guarda el volumen del cubo  $B$  con el volumen del cubo  $A$ ?

- A.  $\frac{1}{4}$
- B.  $\frac{1}{8}$
- C. 1
- D.  $\frac{1}{2}$

9.Cuál es la longitud máxima que puede tener una barra de acero contenida en una caja cúbica de 12 cm de arista?

- A.  $12\sqrt{3} \text{ cm}$
- B.  $10\sqrt{3} \text{ cm}$
- C.  $8\sqrt{3} \text{ cm}$
- D.  $5\sqrt{3} \text{ cm}$

10. Si la medida de la arista de un cubo se incrementa en un 50%, entonces el área del cubo se aumenta en:

- A. 50%
- B. 125%
- C. 150 %
- D. 300%

11. Se vende café en dos tipos de recipientes cilíndricos; el más alto tiene el doble de altura que el otro, pero su diámetro es la mitad del diámetro del más bajo. El más alto cuesta \$580 y el más bajo \$120. ¿Cuál es el más económico?.

- A. El más bajo                      B. El más alto  
C. Igual                                D. Faltan datos

12. El área lateral de un cilindro de altura 4 metros y radio de la base 2 metros es:

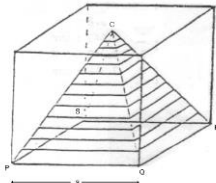
- A.  $18\pi \text{ m}^2$     B.  $8\pi \text{ m}^2$     C.  $16\pi \text{ m}^2$     D.  $64\pi \text{ m}^2$

13. Un balón se infla hasta tener un radio de 15 cm. Si se infla un poco más, el radio aumenta 3 cm. ¿Cuál es el incremento de volumen?

- A.  $3.376\pi \text{ cm}^3$                       B.  $2.542\pi \text{ cm}^3$   
C.  $3.240\pi \text{ cm}^3$                       D.  $3.276\pi \text{ cm}^3$

14. En la figura se tiene un cubo de arista  $a$ , y  $C$  es el centro de la región cuadrangular de la cara superior. Al extraer la pirámide de vértice  $C$  y base  $PQRS$ , el volumen que queda está dado por:

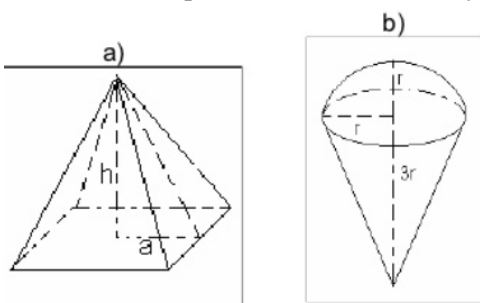
- A.  $a^3$   
B.  $\frac{a^3}{3}$   
C.  $\frac{2a^3}{3}$   
D.  $\frac{a^3}{6}$



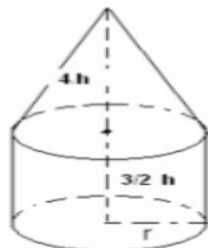
15. Un cilindro y un cono tienen igual base e igual altura, entonces del volumen del cono puede decirse que:

- A. Es la mitad del volumen del cilindro.  
B. Es igual al volumen del cilindro  
C. Es la tercera parte del volumen del cilindro.  
D. Es el doble del volumen del cilindro.

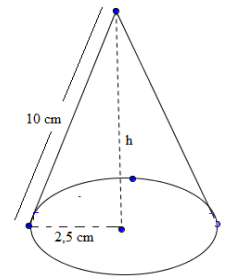
16. Calcular en  $\text{cm}^3$  el volumen total de los siguientes cuerpos y decir cuántos litros caben en cada uno de ellos sabiendo que  $a = 10 \text{ cm}$ ,  $r = 8 \text{ cm}$  y  $h = 9 \text{ dm}$ .



17. Calcula el volumen del cuerpo  
Si  $h = 90 \text{ cm}$  y  $r = 80 \text{ mm}$ :

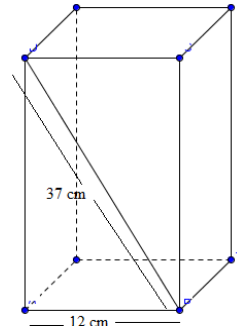


18. Calcula el volumen de un cono cuya generatriz mide 10 cm y el radio de su base es de 2,5 cm.



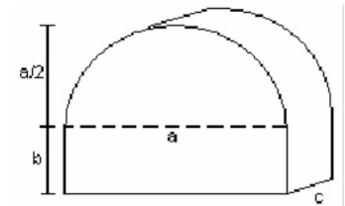
19. Calcula el volumen de una pirámide regular cuya base es un hexágono de 18 cm de lado y su altura es de 40 cm.

20. Halla el volumen de este prisma de base cuadrada:



21. Calcula el volumen de este cuerpo.

- Si  $a = 2,4 \text{ dm}$   
 $b = 8 \text{ cm}$   
 $c = 4,5 \text{ cm}$



22. En un almacén de dimensiones 5 m de largo, 3 m de ancho y 2 m de alto queremos almacenar cajas de dimensiones 10 dm de largo, 6 dm de ancho y 4 dm de alto. ¿Cuántas cajas podremos almacenar?

23. En una probeta de 6 cm de radio se echan cuatro cubitos de hielo de 4 cm de arista. ¿A qué altura llegará el agua cuando se derritan?

24. La cúpula de una catedral tiene forma semiesférica, de radio 50 m. Si restaurarla tiene un coste de 300 € el  $\text{m}^2$ , ¿A cuánto ascenderá el presupuesto de la restauración?

25. Cuántas losetas cuadradas de 20 cm de lado se necesitan para recubrir las caras de una piscina de 15 m de largo por 6 m de ancho y de 1.5 m de profundidad?

26. Para una fiesta, Luís ha hecho 10 gorros de forma cónica con cartón. ¿Cuánto cartón habrá utilizado si las dimensiones del gorro son 15 cm de radio y 25 cm de generatriz?

27. Un cubo de 20 cm de arista está lleno de agua. Cabría esta agua en una esfera de 20 cm de radio?